


### Activités de mathématiques, chapitre 4

**Mission 1 :** Réaliser une collection de même cardinal (1)

Pour sauver les RaZeds, commande autant de boites de Kiskas que de RaZeds représentés.


1.



Je commande \_\_\_\_\_ boites de Kiskas.

Je commande \_\_\_\_\_ boites de Kiskas.

2.

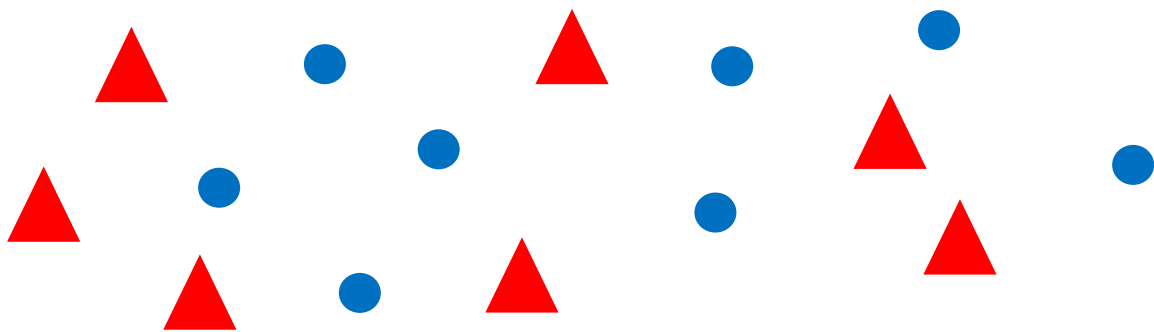


Je \_\_\_\_\_ boites de Kiskas.

Je \_\_\_\_\_ boites de Kiskas.

**Mission 2 :** Comparer deux collections par leurs cardinaux (1)

1. Est-ce qu'il y a autant de ronds que de triangles dans le dessin ?



autant  Oui. Il y a  de ronds  Non. Il n'y a pas  de triangles  que

\_\_\_\_\_

\_\_\_\_\_


2. Complète les deux phrases suivantes

Il y a \_\_\_\_\_ de plus que de \_\_\_\_\_

Il y a \_\_\_\_\_ de moins que de \_\_\_\_\_

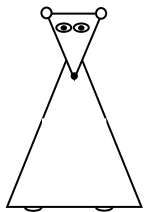
**Mission 3 :** Réaliser une collection d'un cardinal à déterminer (1)

Dessine quatre ronds de moins qu'il y a de carrés.



**Mission 6 :** Comparer deux collections par leurs cardinaux (2)

1. Quel NuméRa à numéro peut porter le plus de boites de KisKas ?



_____ peut porter le plus de boites de KisKas.
_____ peut porter le plus de boites de KisKas.

2. Combien RaSept peut-il porter de boites de plus que RaTrois ?



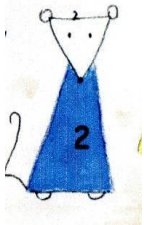
RaSept peut porter ____ boites de _____ que _____.
RaSept peut porter ____ boites de _____ que _____.



**Mission 8 :** Reformuler des comparaisons, de moins que, de plus que

Compare ce que peuvent porter les NuméRas. Ecris deux phrases différentes.

1. Compare ce que peuvent porter RaDeux et RaSept



RaDeux peut porter \_\_\_\_ boites de  
\_\_\_\_\_ que RaSept.

\_\_\_\_\_ peut porter \_\_\_\_ boites de  
\_\_\_\_\_ que RaDeux.

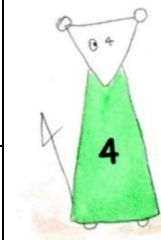


2. Compare ce que peuvent porter RaNeuf et RaQuatre



RaNeuf peut porter \_\_\_\_ boites de  
\_\_\_\_\_ que RaQuatre.

\_\_\_\_\_ peut porter \_\_\_\_ boites de  
\_\_\_\_\_ que RaNeuf.



**Mission 10 :** Résoudre un problème de comparaison en reformulant

Anissa a 3 billes de moins qu'Elodie.

Anissa a 5 billes.

Combien de billes a Elodie ?

1. Ecris autrement la phrase

Anissa a 3 billes de moins qu'Elodie.

Elodie a \_\_\_\_\_

Elodie a \_\_\_\_\_

2. Ecris ta réponse au problème. Tu peux d'abord faire un dessin.

Elodie a \_\_\_\_\_

Elodie a \_\_\_\_\_

