

Documents mathématiques à reproduire pour l'élève, chapitre 2

Mission 1 Comptine en reculant (chiffres)

1. J'écris la comptine de RaHuit en reculant avec des chiffres



Moi	_____
Classe	_____

2. Aide RaSept à écrire sa comptine en reculant comme RaNeuf, avec des mots.



Mission 4 Comptine de deux en deux en reculant



Aide RaCinq à compter de deux en deux en en reculant.





Mission 5 Comptine de deux en deux en reculant

Écris la comptine de RaSept en reculant, de deux en deux, avec des chiffres :



Moi	<hr/> <hr/>
Classe	<hr/> <hr/>

Mission 7 Comptine de trois en trois en reculant (chiffres)

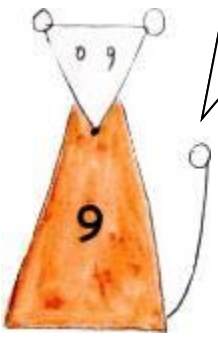

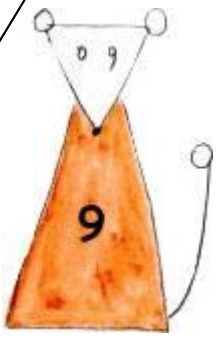

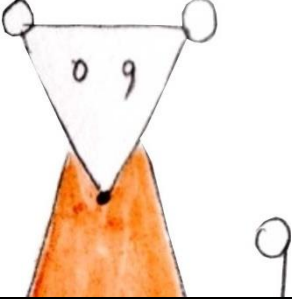
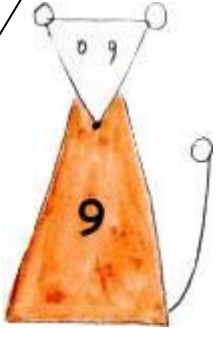


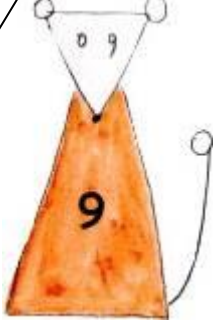


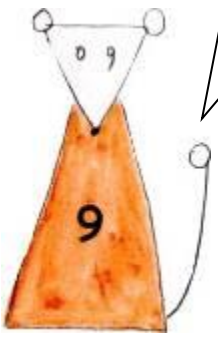

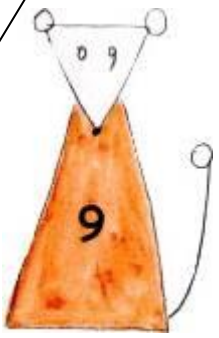
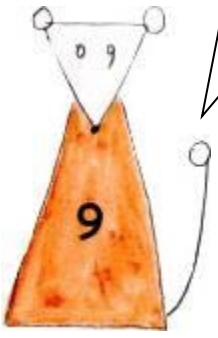

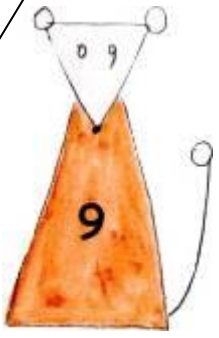
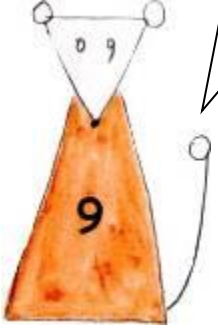

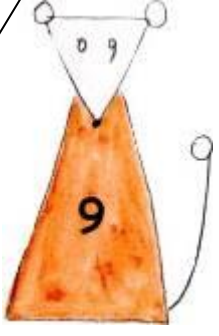
Écris la comptine de RaHuit en reculant, de trois en trois, avec des chiffres :



Moi	<hr/> <hr/>
Classe	<hr/> <hr/>

Mission 8 Des problèmes en BD

<p>Il y a 9 pommes dans la boîte.</p> 	<p>J'enlève 2 pommes de la boîte.</p> 	<p>Il y a ___ pommes dans la boîte.</p> 
<p>Il y a 5 fromages dans la boîte.</p> 	<p>J'ajoute 3 fromages dans la boîte.</p> 	<p>Il y a ___ fromages dans la boîte.</p> 
<p>Il y a ___ bananes dans la boîte.</p> 	<p>J'ajoute 3 bananes dans la boîte.</p> 	<p>Il y a 9 bananes dans la boîte.</p> 

<p>Il y a ___ pommes dans la boîte.</p> 	<p>J'enlève 2 pommes de la boîte.</p> 	<p>Il y a ___ pommes dans la boîte.</p> 
<p>Il y a 6 fromages dans la boîte.</p> 	<p>J'enlève J'ajoute ___ fromages.</p> 	<p>Il y a 9 fromages dans la boîte.</p> 
<p>Il y a 7 bananes dans la boîte.</p> 	<p>J'enlève J'ajoute ___ bananes.</p> 	<p>Il y a 3 bananes dans la boîte.</p> 

Mission 9 Résoudre un problème soustractif (Le problème de RaSept)



Dans une boîte, il y avait sept fromages. RaSept a enlevé trois fromages de la boîte.

Combien y a-t-il maintenant de fromages dans la boîte ?

J'écris ma réponse en faisant une phrase :

Ma réponse _____

Réponse de la classe _____

Mission 10 Résoudre un problème soustractif

Dans une boîte, il y avait huit pommes. J'ai enlevé cinq pommes de la boîte. Combien y a-t-il maintenant de pommes dans la boîte ?

Ma réponse _____

Réponse de la classe _____