


Corrigé des activités de mathématiques, chapitre 4

Mission 1 : Réaliser une collection de même cardinal (1)

Pour sauver les RaZeds, commande autant de boîtes de KisKas que de RaZeds représentés.


1.



Je commande *six* boîtes de KisKas.

Je commande _____ boîtes de KisKas.

2.

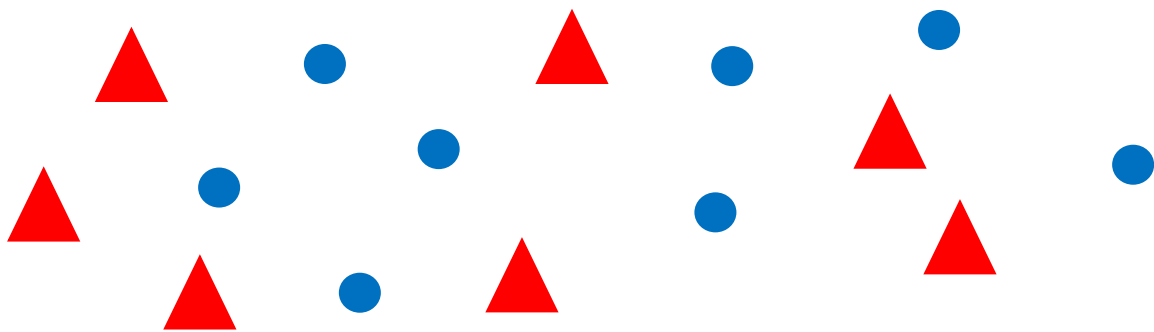


Je commande *huit* boîtes de KisKas.

Je _____ boîtes de KisKas.

Mission 2 : Comparer deux collections par leurs cardinaux (1)

1. Est-ce qu'il y a autant de ronds que de triangles dans le dessin ?



autant Oui. Il y a de ronds Non. Il n'y a pas de triangles que

Non. Il n'y a pas autant de triangles que de ronds.

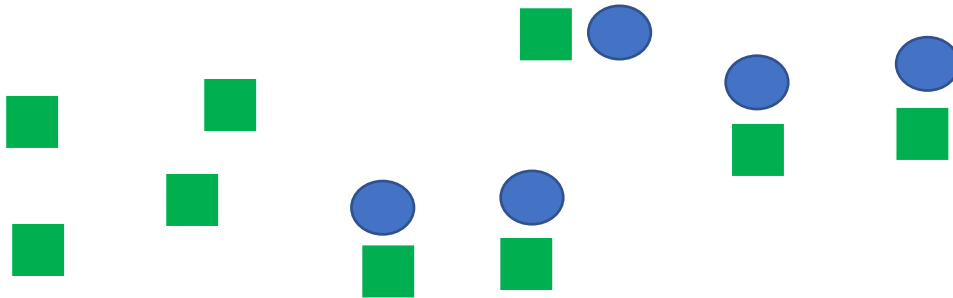
2. Complète les deux phrases suivantes

Il y a *un triangle* de plus que de ronds.

Il y a *un rond* de moins que de *triangles*.

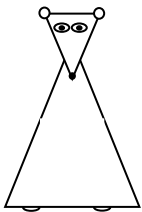
Mission 3 : Réaliser une collection d'un cardinal à déterminer (1)

Dessine quatre ronds de moins qu'il y a de carrés.



Mission 6 : Comparer deux collections par leurs cardinaux (2)

1. Quel NuméRa à numéro peut porter le plus de boites de Kiskas ?



RaNeuf peut porter le plus de boites de Kiskas.

2. Combien RaSept peut-il porter de boites de plus que RaTrois ?



RaSept peut porter 4 boites de plus que RaTrois.

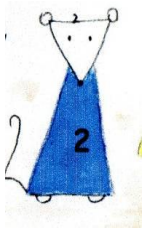
RaSept peut porter ____ boites de ____ que ____.



Mission 8 : Reformuler des comparaisons, de moins que, de plus que

Compare ce que peuvent porter les NuméRas. Ecris deux phrases différentes.

1. Compare ce que peuvent porter RaDeux et RaSept



RaDeux peut porter 5 boites de
moins que RaSept.

RaSept peut porter 5 boites de
plus que RaDeux.

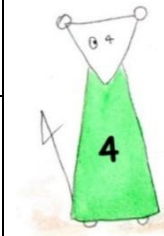


2. Compare ce que peuvent porter RaNeuf et RaQuatre



RaNeuf peut porter 5 boites de
plus que RaQuatre.

RaQuatre peut porter 5 boites de
moins que RaNeuf.



Mission 10 : Résoudre un problème de comparaison en reformulant

Anissa a 3 billes de moins qu'Elodie. Anissa a 5 billes.

Combien de billes a Elodie ?

1. Ecris autrement la phrase

Anissa a 3 billes de moins qu'Elodie. Elodie a *3 billes de plus*
qu'Anissa.

2. Ecris ta réponse au problème. Tu peux d'abord faire un dessin.

Elodie a huit billes.